



二、完全竞争市场上生产者的行为



二、完全竞争市场上生产者的行为

二、完全竞争市场上生产者的行为

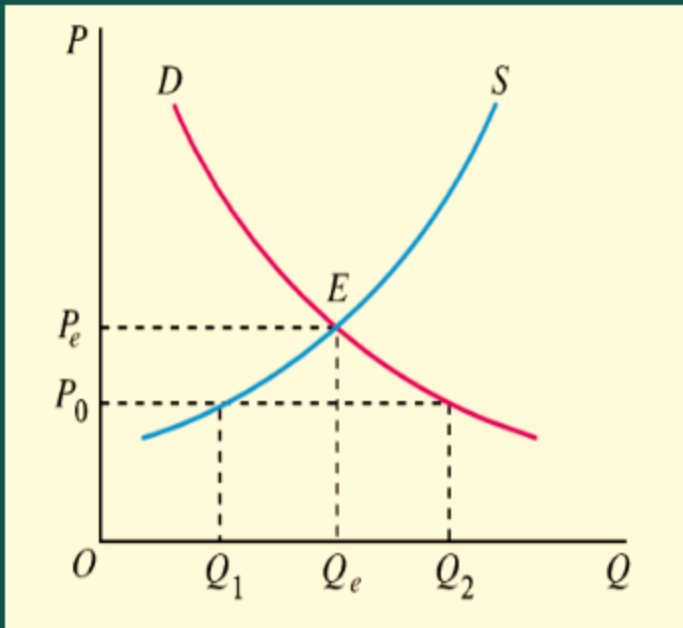
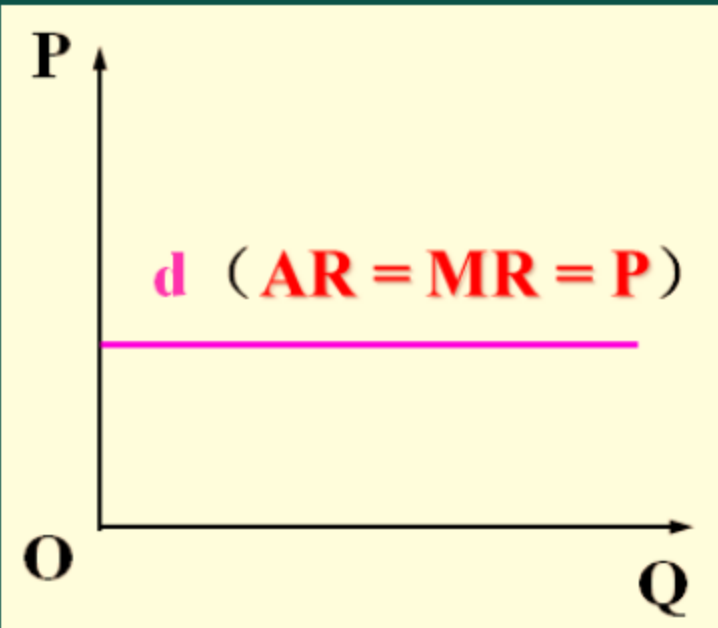
考点：完全竞争市场行业需求曲线和个别企业需求曲线	★★★★
考点：完全竞争厂商的收益曲线	★★
考点：厂商产量决策的基本原则	★★★
考点：完全竞争厂商的供给曲线	★



二、完全竞争市场上生产者的行为

考点1 完全竞争市场行业和个别企业需求曲线★★★★★

完全竞争市场行业需求曲线和个别企业需求曲线

完全竞争市场（行业）需求曲线	完全竞争个别企业需求曲线
向右下方倾斜	三线合一，平行横轴水平线
	



二、完全竞争市场上生产者的行为

【单选题】完全竞争市场上整个行业的需求曲线（ ）。

- A. 与个别企业需求曲线一致
- B. 是向右下方倾斜的
- C. 与横轴平行
- D. 不影响市场价格



二、完全竞争市场上生产者的行为

答案：B

解析：在完全竞争市场上，整个行业的需求曲线和某个企业的需求曲线是不同的（需求曲线的纵轴为价格 P ，横轴为需求数量 Q ）。对于整个行业来说，由于有众多的生产者和消费者，而且每个生产者的规模都比较小，任何一个买者和卖者都不能影响和控制价格。整个行业的需求曲线是一条向右下方倾斜的曲线。随着商品价格的降低，对整个行业产品的需求增加。但对个别企业来说，价格是由整个行业的供求曲线决定的，所以企业只是价格的接受者，只能按照既定的市场价格出售其产品。故在完全竞争市场上，个别企业的需求曲线是一条平行于横轴的水平线。



二、完全竞争市场上生产者的行为

考点：完全竞争厂商的收益曲线★★★

厂商收益的概念	
总收益 (TR)	企业出售一定产品获得的全部收入叫做总收益 $TR=PQ$
平均收益 (AR)	按销售量平均计算的收益 $AR=TR/Q$
边际收益 (MR)	增加一单位产品的销售时总收益的增加量。 $MR=\Delta R/\Delta Q$

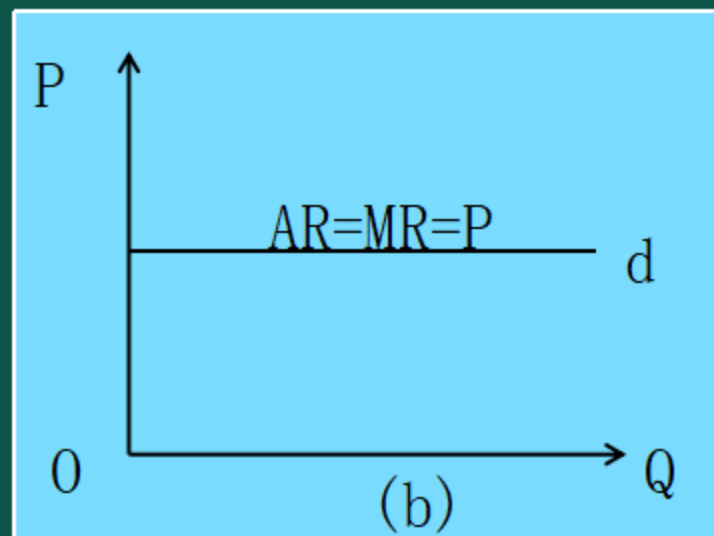
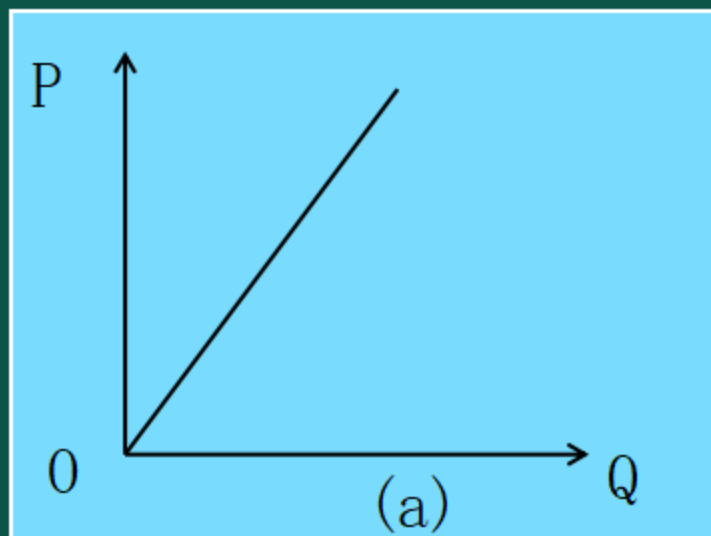


二、完全竞争市场上生产者的行为

考点：完全竞争厂商的收益曲线★★

总收益 (TR)

平均收益 (AR)=边际收益 (MR)=需求曲线 $d(p)$





二、完全竞争市场上生产者的行为

【单选题】若企业的平均收益曲线、边际收益曲线和需求曲线是同一曲线，则此时的市场类型是（ ）。

- A. 完全垄断市场
- B. 完全竞争市场
- C. 寡头垄断市场
- D. 垄断竞争市场



二、完全竞争市场上生产者的行为

答案：B

解析：本题考查完全竞争市场中生产者的行为。在完全竞争市场上，单个企业的平均收益线AR、边际收益线MR、需求曲线是同一条线。



二、完全竞争市场上生产者的行为

【多选题】（2020）关于完全竞争市场中需求曲线的说法，正确的有，在完全竞争市场中（ ）。

- A. 价格是由整个行业的供给和需求曲线决定的
- B. 整个行业需求曲线和任何一个企业的需求曲线是相同的
- C. 个别企业的需求曲线高于其边际收益曲线
- D. 个别企业的需求曲线是一条平行于横轴的水平线
- E. 整个行业的需求曲线是一条向右下方倾斜的曲线



二、完全竞争市场上生产者的行为

答案：ADE

解析：价格是由整个行业的供给和需求曲线决定的；整个行业的需求曲线是一条向右下方倾斜的曲线；个别企业的需求曲线是一条平行于横轴的水平线。故BC选项错误。



二、完全竞争市场上生产者的行为

考点：厂商产量决策的基本原则★★★

厂商产量决策的基本原则	
企业利润	总收益—总成本，即 $\pi = TR - TC$ 。
决策原则	厂商利润最大化的条件 $MR = MC$ 。 此原则表示：利润最大化，亏损最小化
停止营业点	市场价格 $P =$ 平均可变成本 AVC



二、完全竞争市场上生产者的行为

【单选题】 在完全竞争市场上，厂商短期均衡条件是

()。

A. $P=AR$

B. $P=MR$

C. $P=MC$

D. $P=AC$



二、完全竞争市场上生产者的行为

答案：C

解析：完全竞争厂商短期均衡的条件是： $MC=MR$ ， $MR=AR=P$ ，

在短期均衡时 $P=MC$



二、完全竞争市场上生产者的行为

【单选题】企业的短期生产或产量决策中，有一个停止生产的临界点或停止营业的临界点，是在（ ）之处。

- A. $P=MC$
- B. $P=MR$
- C. $P=AVC$
- D. $P=AFC$



二、完全竞争市场上生产者的行为

答案：C

解析：企业的短期生产或产量决策中，有一个停止生产的临界点或停止营业的临界点，这就是市场价格 P 等于平均可变成本 AVC 之处，当市场价格或平均收益、边际收益小于平均成本时，企业应该停止生产，以避免产生更大的亏损。



二、完全竞争市场上生产者的行为

【单选题】（2022）完全竞争市场上，某厂商在目前的产量水平上满足边际成本等于边际收益，此时（ ）。

- A. 如果盈利，不可能得到最大利润
- B. 应当继续调整产量规模
- C. 一定是亏损状态
- D. 如果亏损，应是最小亏损



二、完全竞争市场上生产者的行为

答案：D

解析：企业在 $MR = MC$ 点上获得了最大的利润，但这并不是说，在任何情况下，只要企业做到了 $MR = MC$ ，就一定能获得利润。对 $MR = MC$ 的最佳状态的全面理解应该是，在 $MR = MC$ 点上，企业可能是盈利的，也可能是亏损的。但是，如果企业是亏损的，则这时的亏损一定是相对最小的。总之，无论是盈利还是亏损，当企业处于 $MR = MC$ 时，是最优的产量。所以，边际成本等于边际收益既可种作利润最大化的均衡条件，也可称作亏损最小的均衡条件。



二、完全竞争市场上生产者的行为

考点：完全竞争企业供给曲线★

完全竞争企业 供给曲线	完全竞争企业的供给曲线位于平均可变成 本AVC以上的边际成本部分。
----------------	--------------------------------------



二、完全竞争市场上生产者的行为

【单选题】（2021）在完全竞争市场上，企业短期供给曲线是（ ）。

- A. 处于平均可变成本与平均固定成本之间的边际成本曲线
- B. 平均总成本曲线
- C. 处于平均可变成本之上的边际成本曲线
- D. 处于平均固定成本之上的边际成本曲线



二、完全竞争市场上生产者的行为

答案：C

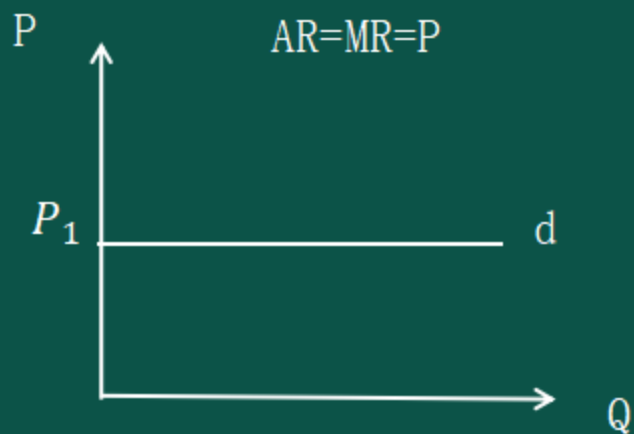
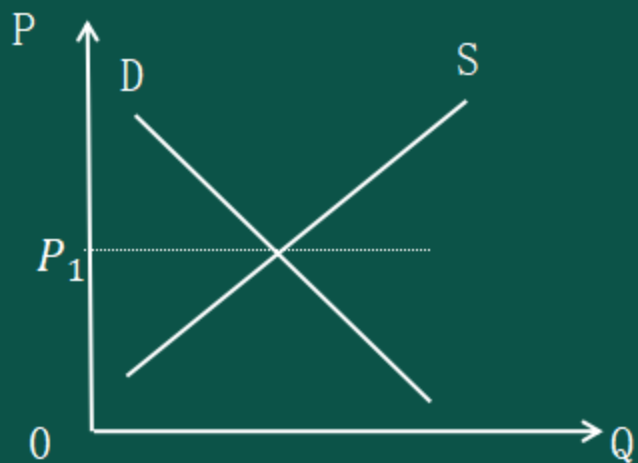
解析：完全竞争市场上，企业的短期供给曲线就是处于平均可变成本之上的边际成本曲线，它表示企业在每一个价格水平的供给量都是能够为其带来最大的利润或最小的亏损的最优产量。



二、完全竞争市场上生产者的行为

完全竞争曲线汇总

市场（整个行业）	企业（厂商）
需求曲线：向右下方倾斜	需求曲线：平行于横轴水平线（三线合一） 平均收益AR=边际收益MR=需求曲线d
供给曲线：向右上方倾斜	供给曲线：平均可变成本AVC之上边际成本曲线





二、完全竞争市场上生产者的行为

【单选题】（2022）从坐标图上看，在完全竞争市场上，单个企业的需求曲线是一条（ ）。

- A. 与横轴相平行的水平线
- B. 与整个行业的需求曲线相同
- C. 与纵轴并行的垂直线
- D. 向右下方倾斜的曲线



二、完全竞争市场上生产者的行为

答案：A

解析：在完全竞争市场上，个别企业的需求曲线是一条平行于横轴的水平线。



二、完全竞争市场上生产者的行为

【多选题】（2010）关于完全竞争市场的说法，正确的有（ ）。

- A. 个别企业的需求曲线和整个行业的需求曲线相同
- B. 所有企业都是价格的接受者
- C. 个别企业的需求曲线是一条平行于横轴的水平线
- D. 不同企业生产的产品存在差别
- E. 整个行业的需求曲线向右下方倾斜



二、完全竞争市场上生产者的行为

答案：BCE

解析：本题考查完全竞争市场。在完全竞争市场上，整个行业的需求曲线和某个企业的需求曲线是不同的。在这种市场上，价格就是由整个行业的供给和需求曲线决定的，所以企业只是价格的接受者。在完全竞争市场上，个别企业的需求曲线是一条平行于横轴的水平线。整个行业的需求曲线是一条向右下方倾斜的曲线。而且完全竞争市场上不同企业生产的产品同质的。